

Date: _____

Nom: _____



Ce que tu sais sur...

ta 5^e année

Réponds aux questions qui suivent en utilisant ce que tu as appris l'an dernier.

- 1** Choisis un nombre entre 100 000 et 1 000 000 puis décompose-le de 2 façons différentes.

Nombre: _____

Décomposition 1: _____

Décomposition 2: _____

Est-ce que cette question était:

Facile

**Loin dans
ta tête**

difficile

- 2** Choisis un nombre entre 100 000 et 1 000 000 puis réponds aux questions.

Nombre: _____

Quel nombre vient immédiatement après ce nombre? _____

Combien y a-t-il de dizaines de mille? _____

Combien vaut le chiffre à la position des centaines? _____

Est-ce que ces questions étaient:

Faciles

**Loin dans
ta tête**

difficiles





3 Choisis un nombre à 3 chiffres et un nombre à 2 chiffres, puis trouve leur produit.

Nombres: et

Produit:

Est-ce que cette question était:

Facile

**Loin dans
ta tête**

difficile

4 Choisis un nombre à 4 chiffres qui a un 5 à la position des unités, puis divise-le par 5.

Nombre:

Quel est le quotient? :

Est-ce que cette question était:

Facile

**Loin dans
ta tête**

difficile





5 Choisis une fraction, puis représente-la sous forme de dessin.

Est-ce que cette question était:

Facile

**Loin dans
ta tête**

difficile

6 Choisis un pourcentage. Ensuite, transforme-le en nombre décimal et en fraction irréductible.

Pourcentage:

Nombre décimal: Fraction irréductible:

Est-ce que cette question était:

Facile

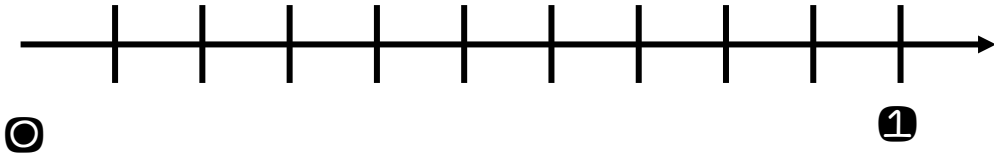
**Loin dans
ta tête**

difficile





7 Voici une droite numérique séparée en 10 espaces. Choisis 5 fractions et place-les sur la droite numérique.



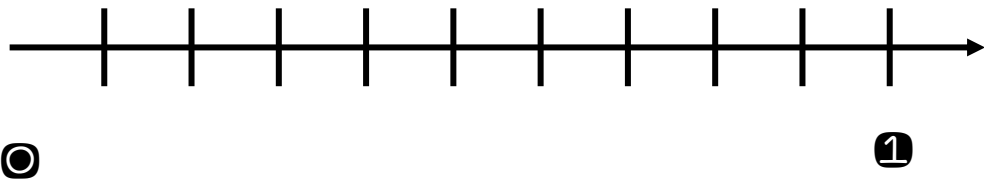
Est-ce que cette question était:

Facile

**LoIn dans
ta tête**

difficile

8 Voici une droite numérique séparée en 10 espaces. Choisis 5 nombres décimaux et place-les sur la droite numérique.



Est-ce que cette question était:

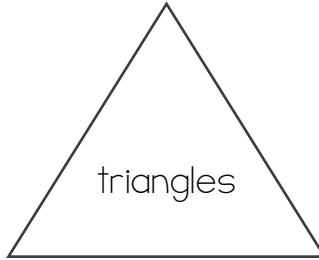
Facile

**LoIn dans
ta tête**

difficile



9 Écris tout ce que tu sais sur les triangles.



Est-ce que cette question était:

Facile

**Loin dans
ta tête**

difficile

10 Écris tout ce que tu sais sur l'aire.



Est-ce que cette question était:

Facile

**Loin dans
ta tête**

difficile



Noms	1 décomposition		2 valeur de position		3 multiplication		4 division		5 fractions		6 associer pourcentage	
1.												
2.												
3.												
4.												
5.												
6.												
7.												
8.												
9.												
10.												
11.												
12.												
13.												
14.												
15.												
16.												
17.												
18.												
19.												
20.												
21.												
22.												
23.												
24.												
25.												
26.												



